

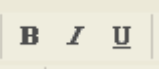
තොරතුරු සන්නිවේදන තාක්ෂණය

10 ශ්‍රේණිය

කාලය පැය 1 1/2

1 කොටස

ප්‍රශ්න සියල්ලටම පිළිතුරු සපයන්න (෧.2 ලැගින්න)

1. පරිගණකය හා මිනිසා සම්බන්ධයෙන් කර ඇති පහත ප්‍රකාශ අතුරින් වැරදි ප්‍රකාශය වනුයේ
 1. පරිගණකය වඩා වේගවත්ය
 2. පරිගණකය බහු කාර්ය වේ.
 3. පරිගණකය වඩා නිවැරදි වේ.
 4. අතීත අත්දැකීම් පදනම් කරගෙන වැඩ කරයි.
2. පහත සඳහන් දේ අතුරින් ICT Tool යක් නොවන්නේ
 1. ජංගම දුරකතනය
 2. පරිගණකය
 3. Microsoft Office
 4. රෙදි සෝදන යන්ත්‍රය
3. මෑත කාලය තුළ ශ්‍රී ලාංකීය පරිගණක ක්ෂේත්‍රයට ඉමහත් සේවයක් කර දැයෙන් සමුගත් පුද්ගලයෙකි
 1. ලක්ෂ්මන් කදිරිගමර්
 2. මහාචාර්ය ඩී.කේ සමරනායක
 3. ආචාර්ය නීලන් තිරුවෙල්වම්
 4. මේ කිසිවකු නොවේ
4. පරිගණකයේ පියා ලෙස විරුදාවලි ලත් පුද්ගලයා වන්නේ
 1. චාල්ස් බැබේජ්
 2. ජේම්ස් චොට්සන්
 3. ඇලෙක්සැන්ඩර් ග්‍රැහැම්බෙල්
 4. ලියනාඩෝ ඩාවින්චි
5. පළමු ස්වයංක්‍රීය ඩිජිටල් පරිගණකය
 1. Mark1
 2. UNIVAC
 3. IBM 360
 4. ICL 1900
6. තුන්වන පරපුරේ පරිගණකවල භාවිතා වූයේ
 1. රික්ත නළ (Vacuum tube)
 2. ට්‍රාන්සිස්ටරය (Transistors)
 3. Integrated Circuit
 4. Micro Chip
7. පහත සඳහන් දේ අතුරින් තොරතුරක් වන්නේ
 1. නිමල් ගණිතයට ලබාගත් ලකුණ
 2. යම් ස්ථානයකට කිසියම් දිනක ලැබුණු වර්ෂාපතනය
 3. කිසියම් දිනක වෙළඳ සැලක වැඩියෙන්ම අලෙවි වූ භාණ්ඩය
 4. ස්ථාන දෙකක් අතර දුර
8. මිල අධික, වඩා වේගවත්, ධාරිතාව හා හැකියාව වඩා ඉහල , අභ්‍යවකාශ කටයුතු, ආරක්ෂක කටයුතු වැනි සංකීර්ණ කාර්යයන් සඳහා යොදාගැනෙන පරිගණක වර්ගය
 1. සුපිරි පරිගණක
 2. මේන් ෆ්‍රේම් පරිගණක
 3. ඩෙස්ක්ටොප් පරිගණක
 4. ජංගම පරිගණක
9. පරිගණකයට දත්ත ඇතුළුකරන(Input device) හා තොරතුරු ලබා දෙන උපාංගයක්(Output Device) නොවන්නේ
 1. Key board ,Monitor
 2. Mouse, Printer
 3. Digital Camera ,speaker
 4. Harddisk,Ram
10. Ms Word හි Formatting toolbar හි අඩංගු අයිතමයක් වන්නේ
 1. Bold
 2. Save
 3. Print Preview
 4. my computer
11. Word Processing මගින් කළ නොහැකි කාර්යයක් වන්නේ
 1. චාරිතා සකස් කිරීම
 2. දැන්වීමක් සකස් කිරීම
 3. ජායාරූප සංස්කරණය
 4. ලිපි ලිවීම
12. කිසියම් ලේඛනයක ඇති වචනයක් තවත් තැනකට පිටපත් කිරීමට කළ යුතු ක්‍රියා පිළිවෙත නිවැරදිව දක්වා ඇත්තේ
 1. Coppy-Paste
 2. cut-Paste
 3. Coppy
 4. Cut
13. කිසියම් ලේඛනයක පළමු පේලිය හා පස්වන පේලිය (තැන් දෙකක ඇති පේලි දෙකක්) select කිරීම සඳහා උපයෝගී කරගන්නා යතුරු පුවරුවේ ඇති විශේෂ යතුර කුමක්ද?
 1. Shift
 2. Alt
 3. Ctrl
 4. Caps Lock
14.  මේ මගින් අදහස් වන දේ පිලිවෙලට ඇත්තේ
 1. Bold, Italic, hyper link
 2. Basic, Insert, Underline
 3. Italic, Bold, Underline
 4. Bold, Italic, Underline
15. MS Paint හිදී tool Box දර්ශනය නොවේ නම් එය ලබා ගත හැකි ආකාරය
 1. View-(tick)tool box
 2. View-(tick)Colour box
 3. File-save
 4. Edit - Undo

2කොටස

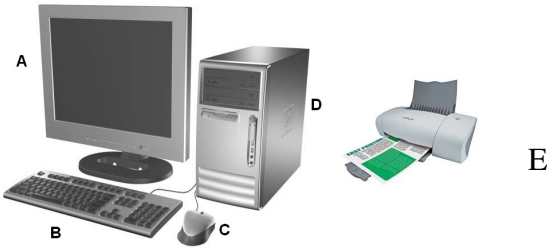
ප්‍රශ්න සියල්ලටම පිළිතුරු සපයන්න

1.

- 1.1 ලොව මුල්ම පරිගණකය කුමක්ද?(ඉ.3)
- 1.2 චාල්ස් බැබේජ් විසින් නිර්මාණය කරන ලද පරිගණකයක නමක් ලියන්න(ඉ.3)
- 1.3 ඇසා ඔගස්ටා මැනිනිය ප්‍රසිද්ධ වන්නේ කුමක් සඳහාද?(ඉ.4)

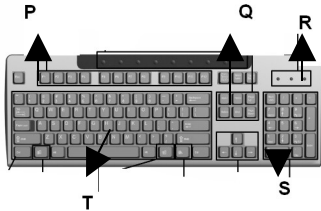
2.

2.1



මෙහි A,B,C,D,E කොටස් නම්කරන්න(ඉ.3)

2.2



මෙහි P,Q,R,S,T වලට අදාළ යතුරුවල හා කොටස්වල නම් ලියන්න(ඉ.3)

2.3 system unit තුළ ඇති කොටස් කොටස් 5 ක නම් ලියන්න(ඉ.4)

3.

- 3.1 කිසියම් අකුරක ප්‍රමාණය(Font Size) වෙනස් කරන ආකාරය පියවර වශයෙන් ලියන්න(ඉ.2)
- 3.2 පහත ඡේදයේ සඟල වරහන් තුළ ඇති කොටස් ඇසුරින් අසා ඇති ප්‍රශ්න වලට පිළිතුරු සපයන්න

{Recent(4)} developments in early childhood teacher {education(1)} have seen the {inclusion of curricula(2)} designed to serve the concept of continuous professional renewal through educating {undergraduates(3)} in the {interpretation(4)}, execution, and

- a. අංක 1 න් දැක්වෙන ආකාරයට වචනයක් සකස් කිරීමේ පියවර(Path) ඉදිරිපත් කරන්න(ඉ.2)
- b. අංක 2 න් දැක්වෙන ආකාරයට වචනයක් සකස් කිරීමේ පියවර(Path) ඉදිරිපත් කරන්න(ඉ.2)
- c. අංක 3 න් දැක්වෙන ආකාරයට වචනයක් සකස් කිරීමේ පියවර(Path) ඉදිරිපත් කරන්න(ඉ.2)
- d. අංක 4න් දැක්වෙන ආකාරයට Recent හා interpretation වචන දෙක තේරීමට(select) අවශ්‍ය නම් ඔබ අනුගමනය කරන පියවර(Path) ඉදිරිපත් කරන්න(ඉ.2)

